

This Question Paper consists of 29 questions and 10 printed pages + one outline map of India.  
इस प्रश्न-पत्र में 29 प्रश्न तथा 10 मुद्रित पृष्ठ + भारत का एक रेखा-मानचित्र है।

Roll No. 

--	--	--	--	--	--	--	--	--	--	--	--

  
अनुक्रमांक

Code No. **55/AS/3**  
कोड नं.

**SOCIAL SCIENCE**

Set **C**

**( सामाजिक विज्ञान )**

**(213)**

**000018**

Day and Date of Examination

परीक्षा का दिन व दिनांक

Signature of Invigilators

निरीक्षकों के हस्ताक्षर

1.

2.

**General Instructions :**

1. Candidate must write his/her Roll Number on the first page of the Question Paper.
2. Please check the Question Paper to verify that the total pages and the total number of questions contained in the Question Paper are the same as those printed on the top of the first page. Also check to see that the questions are in sequential order.
3. For the objective type of questions, you have to choose **any one** of the four alternatives given in the question i.e. (A), (B), (C) or (D) and indicate your correct answer in the Answer-Book given to you.
4. All the questions including objective type questions are to be answered within the allotted time and no separate time limit is fixed for answering objective type questions.
5. Making any identification mark in the Answer-Book or writing Roll Number anywhere other than the specified places will lead to disqualification of the candidate.
6. Write your Question Paper code No. **55/AS/3-C** on the Answer-Book.
7. (a) The Question Paper is in English/Hindi medium only. However, if you wish, you can answer in any one of the languages listed below :  
English, Hindi, Urdu, Punjabi, Bengali, Tamil, Malayalam, Kannada, Telugu, Marathi, Oriya, Gujarati, Konkani, Manipuri, Assamese, Nepali, Kashmiri, Sanskrit and Sindhi. You are required to indicate the language you have chosen to answer in the box provided in the Answer-Book.  
(b) If you choose to write the answer in the language other than Hindi and English, the responsibility for any errors/mistakes in understanding the question will be yours only.



### सामान्य अनुदेश :

1. परीक्षार्थी प्रश्नपत्र के पहले पृष्ठ पर अपना अनुक्रमांक अवश्य लिखें।
2. कृपया प्रश्नपत्र को जाँच लें कि प्रश्नपत्र के कुल पृष्ठों तथा प्रश्नों की उतनी ही संख्या है जितनी प्रथम पृष्ठ के सबसे ऊपर छपी है। इस बात की जाँच भी कर लें कि प्रश्न क्रमिक रूप में हैं।
3. वस्तुनिष्ठ प्रश्नों में आपको चार विकल्पों (A), (B), (C) तथा (D) में से कोई एक उत्तर चुनना है तथा दी गई उत्तर-पुस्तिका में आप सही उत्तर लिखिए।
4. वस्तुनिष्ठ प्रश्नों के साथ-साथ सभी प्रश्नों के उत्तर निर्धारित अवधि के भीतर ही देने हैं। वस्तुनिष्ठ प्रश्नों के लिए अलग से समय नहीं दिया जाएगा।
5. उत्तर-पुस्तिका में पहचान-चिह्न बनाने अथवा निर्दिष्ट स्थानों के अतिरिक्त कहीं भी अनुक्रमांक लिखने पर परीक्षार्थी को अयोग्य ठहराया जायेगा।
6. अपनी उत्तर-पुस्तिका पर प्रश्नपत्र की कोड संख्या **55/AS/3-C** लिखें।
7. (क) प्रश्नपत्र केवल हिंदी/अंग्रेजी में है। फिर भी, यदि आप चाहें तो नीचे दी गई किसी एक भाषा में उत्तर दे सकते हैं :

अंग्रेजी, हिंदी, उर्दू, पंजाबी, बँगला, तमिल, मलयालम, कन्नड़, तेलुगु, मराठी, उड़िया, गुजराती, कोंकणी, मणिपुरी, असमिया, नेपाली, कश्मीरी, संस्कृत और सिंधी।

कृपया उत्तर-पुस्तिका में दिए गए बॉक्स में लिखें कि आप किस भाषा में उत्तर लिख रहे हैं।

- (ख) यदि आप हिंदी एवं अंग्रेजी के अतिरिक्त किसी अन्य भाषा में उत्तर लिखते हैं तो प्रश्न को समझने में होने वाली त्रुटियों/गलतियों की जिम्मेदारी केवल आपकी होगी।



# SOCIAL SCIENCE

( सामाजिक विज्ञान )

(213)

Time : 3 Hours ]

[ Maximum Marks : 100

समय : 3 घण्टे ]

[ पूर्णांक : 100

- Instructions :**
- (1) All questions are **compulsory** and carry marks as indicated against each question.
  - (2) For Multiple Choice Questions **four** options are given. You have to choose right option and indicate it in your answer-book.
  - (3) Attach the map with your answer script.

- निर्देश :**
- (1) सभी प्रश्न अनिवार्य हैं और प्रत्येक प्रश्न के अंक उसके सामने दिये गये हैं।
  - (2) बहुविकल्पीय प्रश्नों के चार विकल्प दिये गये हैं। आप सही विकल्प चुनिये और अपनी उत्तर-पुस्तिका में लिखिए।
  - (3) दिये गये मानचित्र को उत्तर-पुस्तिका के साथ संलग्न कीजिए।


1. Which of the following is a cause of regional disparity ?

1

- (A) Geographical factors
- (B) Lack of infrastructure
- (C) Poor governance
- (D) All of these

निम्न में से कौन क्षेत्रीय असमानता का कारण है ?

- (A) भौगोलिक कारक
- (B) आधारभूत संरचना की कमी
- (C) सुशासन की कमी
- (D) इनमें से सभी



2. Which of the following is **NOT** included in abiotic environment around us :

1

- (A) Light (B) Animals (C) House (D) Air

निम्न में से कौन हमारे आस पास के अजैविक पर्यावरण में सम्मिलित नहीं है ?

- (A) प्रकाश (B) पशु (C) मकान (D) वायु

3. Which of the following trees **does not** belong to tropical evergreen forests ?

1

- (A) Rosewood (B) Ebony

- (C) Mahogany (D) Pine

निम्न में से कौन सा वृक्ष उष्ण कटिबन्धीय सदाबहार वनों का नहीं है ?

- (A) सुगन्धित लकड़ी वाला पेड़ (B) आबनूस

- (C) महोगनी (D) पाइन

4. "The state shall promote international peace and security", is a :

1

- (A) Guideline of a Directive Principle

- (B) Fundamental Right

- (C) Fundamental Duty

- (D) Duty

"राज्य को अंतर्राष्ट्रीय शांति तथा सुरक्षा को प्रोन्नत करना चाहिये"। है, एक :

- (A) निर्देशक सिद्धांतों का एक निर्देश

- (B) मूल अधिकार

- (C) मूल कर्तव्य

- (D) कर्तव्य

5. Why did the movement 'Counter reformation' takes place ? Explain any two reasons. 2  
 'प्रतिधर्म सुधार' आन्दोलन क्यों हुआ ? कोई दो कारण स्पष्ट कीजिए।
6. Mention the climatic conditions required for 'Tea' cultivation in India. 2  
 भारत में चाय की कृषि के लिए आवश्यक जलवायविक दशाओं का उल्लेख कीजिए।
7. Why did the British form urban local bodies in India ? Explain two reasons. 2  
 अंग्रेजों ने भारत में स्थानीय शहरी निकाय क्यों बनाये थे ? दो कारण स्पष्ट कीजिए।
8. Mention any two levels of 'security'. 2  
 'सुरक्षा' के किन्हीं दो स्तरों का उल्लेख कीजिये।
9. Describe the rise of Japan after the Meiji Restoration. 4  
 मेजी पुनर्स्थापन के पश्चात जापान के उदय का वर्णन कीजिये।
10. Enumerate the impact of introduction of English Language by the British on Indian Society 4  
 भारतीय समाज में, अंग्रेजों द्वारा लादी गयी अंग्रेजी भाषा के प्रभाव को सूचीबद्ध कीजिए।
11. Explain the contribution of Pandita Ramabai in the field of women's emancipation in India. 4  
 भारत में स्त्री मुक्ति के क्षेत्र में पंडिता रमाबाई के योगदान की व्याख्या कीजिये।

12. Why did Indians often opposed British rule ? Explain any four reasons. 4

भारतीय अक्सर अंग्रेजी शासन का विरोध क्यों करते थे ? कोई चार कारण स्पष्ट कीजिए।

13. Analyse the significance of Civil Disobedience Movement in the history of Indian freedom struggle. 4

भारतीय स्वतंत्रता संग्राम के इतिहास में 'सविनय अवज्ञा आंदोलन' के महत्व का विश्लेषण कीजिये।

14. "From olden days till now water ways have been an important means of transportation." Support the statement. 4

"पुराने समय से अब तक जल मार्ग, परिवहन का महत्वपूर्ण साधन रहे हैं।" कथन की पुष्टि कीजिए।

15. Why should we keep our rivers clean ? Explain any four reasons. 4

हमें अपनी नदियों को क्यों स्वच्छ रखना चाहिये ? कोई चार कारण स्पष्ट कीजिए।

16. Explain with examples the uneven distribution of rainfall in India. 4

भारत में वर्षा के असमान वितरण को उदाहरणों सहित स्पष्ट कीजिए।

17. Explain the factors which make 'population a resource'. 4

'जनसंख्या को संसाधन' बनाने वाले कारकों की व्याख्या कीजिये।



18. Explain the jurisdictions of the 'High Courts'. 4

उच्च न्यायालयों के अधिकार क्षेत्रों की व्याख्या कीजिए।

19. Explain 'justice' as one of the foremost values put-forth in our constitution. 4

हमारे संविधान में 'न्याय' को एक अग्रगण्य मूल्य के रूप में रखा गया है, समझाइये।

20. Describe poverty as one of the major challenges to Indian democracy. 4

भारतीय लोकतंत्र के सन्मुख गरीबी एक प्रमुख चुनौतियों में से है, वर्णन कीजिए।

21. Mention the qualifications for a candidate of Presidential election in India. 4

भारत में राष्ट्रपति के चुनाव के एक प्रत्याशी की योग्यताओं का उल्लेख कीजिये।

22. How do the pressure groups function in a democratic country ? Explain with examples. 4

एक लोकतांत्रिक देश में दबाव समूह किस प्रकार से कार्य करते हैं ? उदाहरणों सहित स्पष्ट कीजिए।

23. Why is print media considered as an important tool for making of public opinion ? Explain. 4

जनमत के निर्माण के लिये प्रिन्ट मीडिया को एक महत्वपूर्ण उपकरण क्यों मानते हैं ? स्पष्ट कीजिए।



24. Describe town planning in Indus Valley Civilization of Bronze age.

5

काँस्य युगीन 'सिन्धु घाटी की सभ्यता' में नगर योजना का वर्णन कीजिये।

25. Describe the reasonable restrictions kept by Indian Constitution on freedoms granted by it, to its citizens.

5

भारतीय संविधान द्वारा अपने नागरिकों को दी गयी स्वतंत्रताओं पर लगाये गये युक्तियुक्त प्रतिबंधों का वर्णन कीजिये।

26. How is communalism a big threat to national integration of India ? Examine.

5

सम्प्रदायिकता किस प्रकार भारत की राष्ट्रीय एकता के लिये एक बड़ा खतरा है ? परीक्षण कीजिये।

27. "Medieval period was called a dark age by Europeans". Analyse the statement.

5

"यूरोप के लोग मध्यकाल को अंधेरा युग कहते थे"। इस कथन का विश्लेषण कीजिये।

28. In the given outline map of India mark and label the following :

1x4=4

(i) Karakoram Range

(ii) Kaveri river

(iii) Simlipal Biosphere Reserve

(iv) Cotton producing areas of Gujarat

दिये गये भारत के रेखा मानचित्र में निम्नलिखित को उपयुक्त चिन्हों से दर्शाइये और उनके नाम लिखिये :

(i) कराकोरम शृंखला

(ii) कावेरी नदी

(iii) सिमलीपाल जैवमंडल आरक्षित क्षेत्र

(iv) गुजरात के कपास उत्पादक क्षेत्र

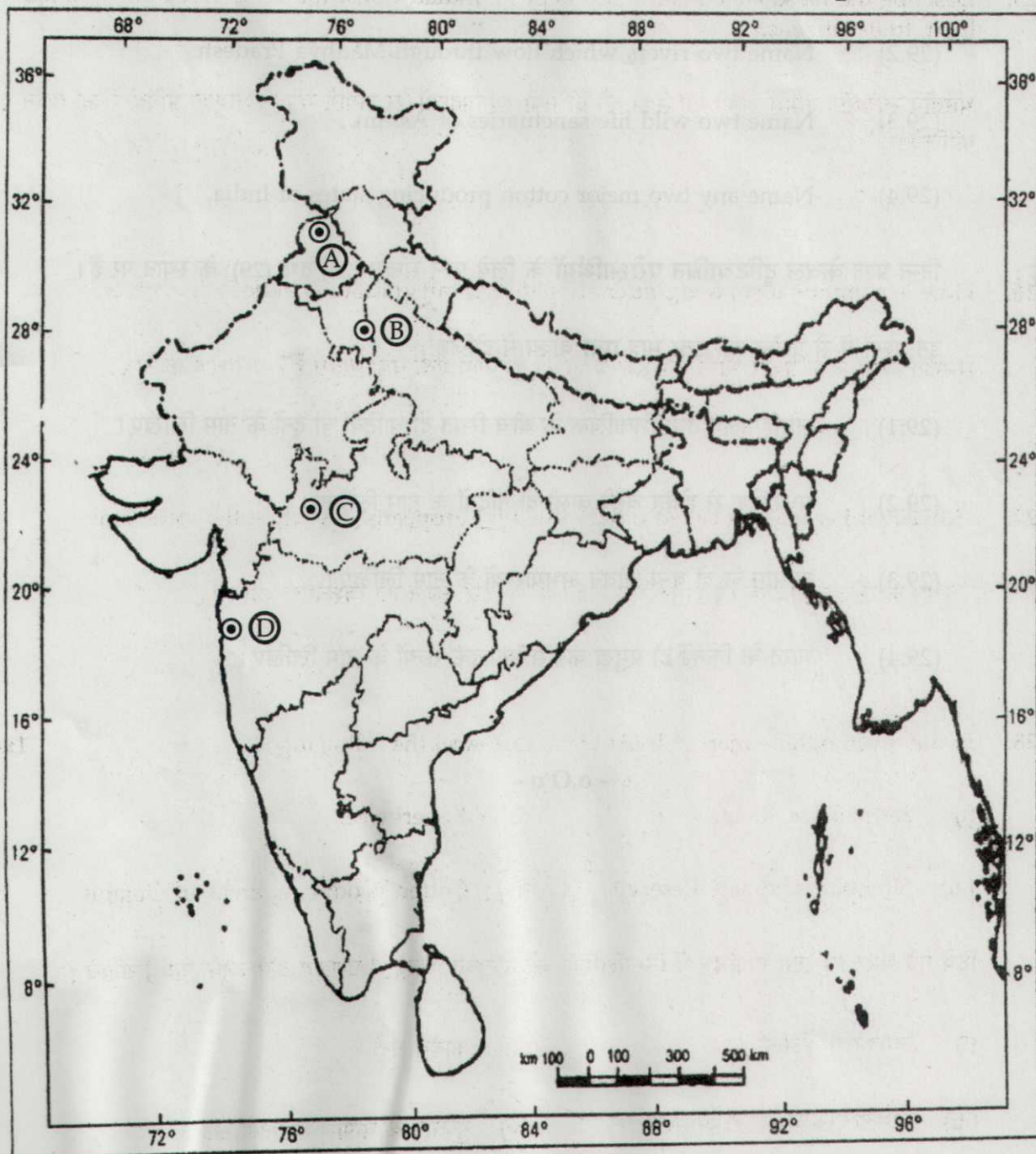


29. Identify and write in your answer-book the correct names of four major international Airports of north and western India marked as (A), (B), (C) and (D) in the given outline map of India.

1x4=4

दिये गये भारत के रेखामानचित्र में भारत के उत्तर तथा पश्चिमी भाग में स्थित चार अंतर्राष्ट्रीय हवाई अड्डों को (A), (B), (C) तथा (D) से दर्शाया गया है। इन्हें पहचानिये तथा इनके नाम अपनी उत्तरपुस्तिका में लिखिये।

### Political Map of India



**Note :** Following questions are for **Visually Impaired Candidates only** in place of question (28) and (29).

Answer to these questions must not be in more than **one** sentence.

- (29.1) Name two valleys or Duns situated between Lesser Himalayas and Shivalik.
- (29.2) Name two rivers which flow through Madhya Pradesh.
- (29.3) Name two wild life sanctuaries of Assam.
- (29.4) Name any two major cotton producing states of India.

**नोट :** निम्न प्रश्न केवल दृष्टिबाधित परीक्षार्थियों के लिये प्रश्न संख्या (28) तथा (29) के स्थान पर हैं।

इन प्रश्नों में से प्रत्येक का उत्तर मात्र **एक** वाक्य में दीजिये :

- (29.1) लघुहिमालय तथा शिवालिक के बीच स्थित दो घाटियों या दूनों के नाम लिखिए।
- (29.2) मध्यप्रदेश से होकर बहने वाली दो नदियों के नाम लिखिए।
- (29.3) आसाम के दो वन्य जीवन अभयारण्यों के नाम लिखिए।
- (29.4) भारत के किन्हीं दो प्रमुख कपास उत्पादक राज्यों के नाम लिखिए।

- o O o -

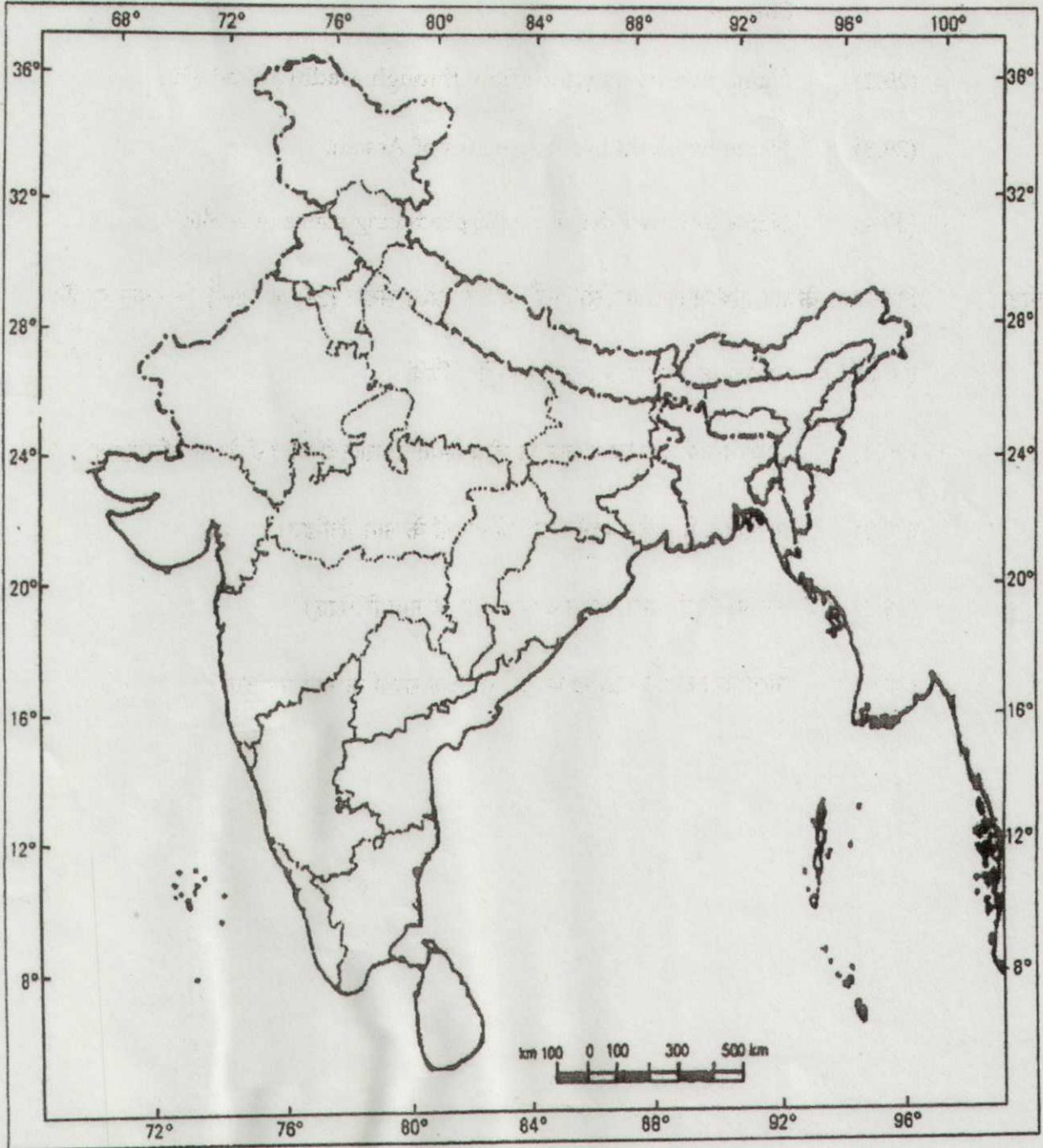


Roll No.

--	--	--	--	--	--	--	--	--	--

For Q. No. 28

## Outline Map of India (Political)



55/AS/3-213-C]



000070