

This Question Paper consists of 29 questions and 10 printed pages + one outline map of India.
इस प्रश्न-पत्र में 29 प्रश्न तथा 10 मुद्रित पृष्ठ + भारत का एक रेखा मानचित्र है।

Roll No.

अनुक्रमांक

--	--	--	--	--	--	--	--	--	--	--	--

Code No. 54/AS/4

कोड नं.

Set-

B

SOCIAL SCIENCE

(सामाजिक विज्ञान)

(213)

0380029

Day and Date of Examination

(परीक्षा का दिन व दिनांक)

Signature of Invigilators

1.

(निरीक्षकों के हस्ताक्षर)

2.

General Instructions :

- 1 Candidate must write his/her Roll Number on the first page of the Question Paper.
- 2 Please check the Question Paper to verify that the total pages and the total number of questions contained in the Question Paper are the same as those printed on the top of the first page. Also check to see that the questions are in sequential order.
- 3 For the objective type of questions, you have to choose any **one** of the four alternatives given in the question i.e. (A), (B), (C) or (D) and indicate your correct answer in the Answer-Book given to you.
- 4 All the questions including objective type questions are to be answered within the allotted time and no separate time limit is fixed for answering objective type questions.
- 5 Making any identification mark in the Answer-Book or writing Roll Number anywhere other than the specified places will lead to disqualification of the candidate.
- 6 Write your Question Paper code No. 54/AS/4-**B** on the Answer-Book.
- 7 (a) The Question Paper is in English/Hindi medium only. However, if you wish, you can answer in any one of the languages listed below :
English, Hindi, Urdu, Punjabi, Bengali, Tamil, Malayalam, Kannada, Telugu, Marathi, Oriya, Gujarati, Konkani, Manipuri, Assamese, Nepali, Kashmiri, Sanskrit and Sindhi.
You are required to indicate the language you have chosen to answer in the box provided in the Answer-Book.
(b) If you choose to write the answer in the language other than Hindi and English, the responsibility for any errors/mistakes in understanding the question will be yours only.



सामान्य अनुदेश :

- 1 परीक्षार्थी प्रश्नपत्र के पहले पृष्ठ पर अपना अनुक्रमांक अवश्य लिखें ।
- 2 कृपया प्रश्नपत्र को जाँच लें कि प्रश्नपत्र के कुल पृष्ठों तथा प्रश्नों की उतनी ही संख्या है जितनी प्रथम पृष्ठ के सबसे ऊपर छपी है । इस बात की जाँच भी कर लें कि प्रश्न क्रमिक रूप में हैं ।
- 3 वस्तुनिष्ठ प्रश्नों में आपको चार विकल्पों (A), (B), (C) तथा (D) में से कोई एक उत्तर चुनना है तथा दी गई उत्तर-पुस्तिका में आप सही उत्तर लिखिए ।
- 4 वस्तुनिष्ठ प्रश्नों के साथ-साथ सभी प्रश्नों के उत्तर निर्धारित अवधि के भीतर ही देने हैं । वस्तुनिष्ठ प्रश्नों के लिए अलग से समय नहीं दिया जाएगा ।
- 5 उत्तर-पुस्तिका में पहचान-चिह्न बनाने अथवा निर्दिष्ट स्थानों के अतिरिक्त कहीं भी अनुक्रमांक लिखने पर परीक्षार्थी को अयोग्य ठहराया जायेगा ।
- 6 अपनी उत्तर-पुस्तिका पर प्रश्नपत्र की कोड संख्या **54/AS/4—B** लिखें ।
- 7 (क) प्रश्नपत्र केवल हिंदी/अंग्रेजी में है । फिर भी, यदि आप चाहें तो नीचे दी गई किसी एक भाषा में उत्तर दे सकते हैं :

अंग्रेजी, हिंदी, उर्दू, पंजाबी, बँगला, तमिल, मलयालम, कन्नड़, तेलुगु, मराठी, उड़िया, गुजराती, कोंकणी, मणिपुरी, असमिया, नेपाली, कश्मीरी, संस्कृत और सिंधी ।

कृपया उत्तर-पुस्तिका में दिए गए बॉक्स में लिखें कि आप किस भाषा में उत्तर लिख रहे हैं ।

- (ख) यदि आप हिंदी एवं अंग्रेजी के अतिरिक्त किसी अन्य भाषा में उत्तर लिखते हैं तो प्रश्न को समझने में होने वाली त्रुटियों / गलतियों की जिम्मेदारी केवल आपकी होगी ।



SOCIAL SCIENCE

(सामाजिक विज्ञान)

(213)

Time : 3 Hours]

[Maximum Marks : 100

समय : 3 घण्टे]

[पूर्णांक : 100

- Note :**
- (1) All questions are **compulsory** and carry marks as indicated against each question.
 - (2) For Multiple Choice Questions **four** options are given. You have to choose right option and indicate it in your answer book.
 - (3) Attach the map with answer script.


- निर्देश :**
- (1) सभी प्रश्न अनिवार्य हैं और प्रत्येक प्रश्न के अंक उसके सामने दिये गये हैं ।
 - (2) वस्तुनिष्ठ प्रश्नों के चार-चार विकल्प दिये गये हैं। आप सही विकल्प चुनिये और अपनी उत्तर-पुस्तिका में लिखिये ।
 - (3) दिये गये मानचित्र को उत्तर-पुस्तिका के साथ संलग्न कीजिए ।

1 On the given political outline map of India mark and label the following : 1×4=4

- (i) Shiwalik Mountain Range
- (ii) Godavari River
- (iii) Rajiv Gandhi International Airport
- (iv) Haldia Sea Port

दिये गये भारत के रेखा मानचित्र में निम्नलिखित को उपयुक्त चिन्हों से दर्शाइये और उनके नाम लिखिये :


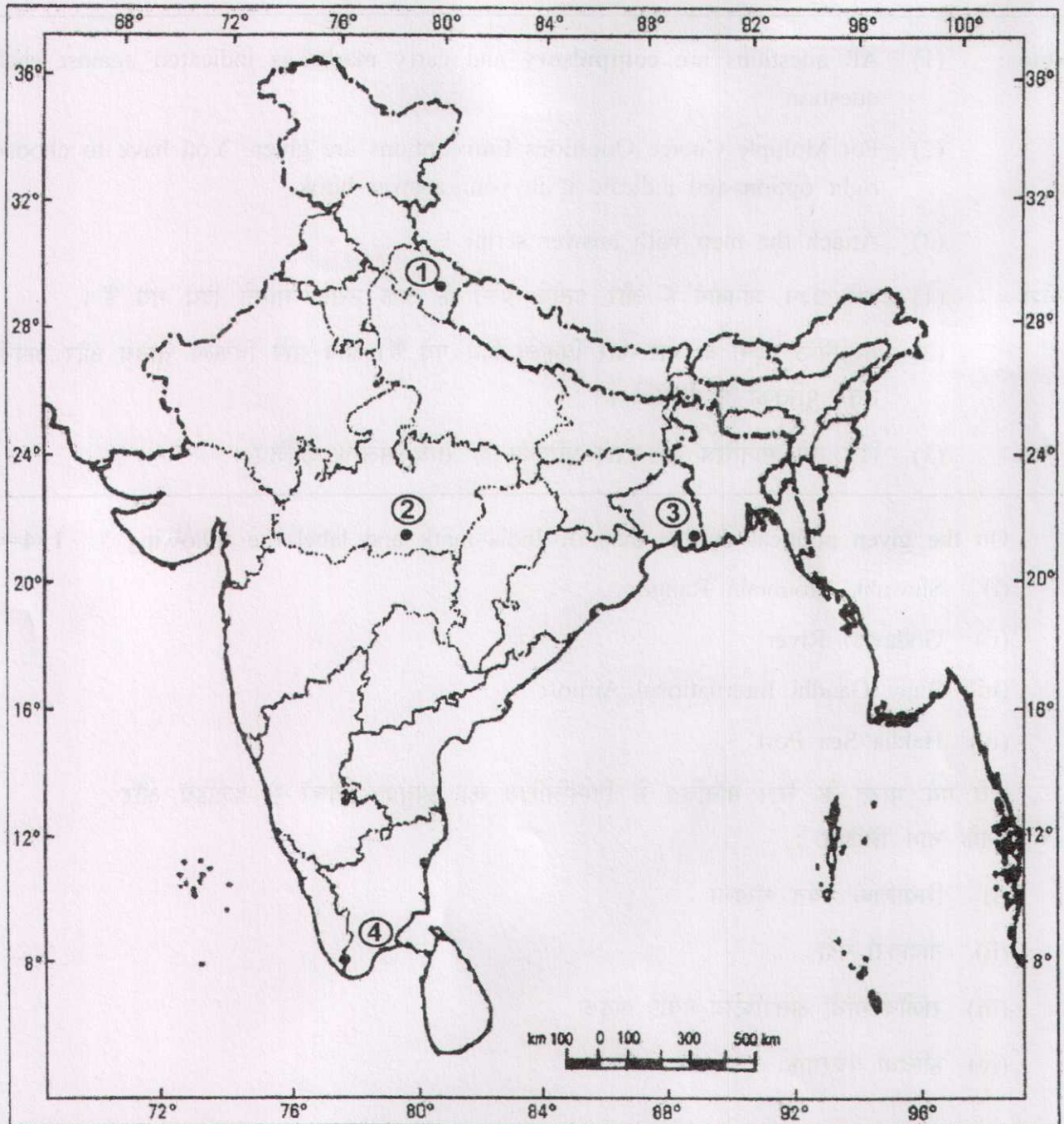
- (i) शिवालिक पर्वत शृंखला
- (ii) गोदावरी नदी
- (iii) राजीव गाँधी अंतर्राष्ट्रीय हवाई अड्डा
- (iv) हल्दिया बंदरगाह



- 2 Identify and write in your answer-book the correct names of four biosphere reserves of India shown as (1), (2), (3) and (4) in the given political outline map of India. $1 \times 4 = 4$

दिये गये भारत के रेखा मानचित्र में भारत के चार जैव आरक्षित क्षेत्रों को (1), (2), (3) तथा (4) से दर्शाया गया है। इन्हें पहचानिये तथा इनके सही नाम अपनी उत्तर-पुस्तिका में लिखिये।

Political Map of India



Note : Following questions are for **Visually Impaired Candidates** only in lieu of question No. 1 and 2.

नोट : नीचे दिये गये प्रश्न केवल दृष्टिबाधित परीक्षार्थियों के लिए प्रश्न संख्या 1 तथा 2 के स्थान पर हैं ।

Answer to these questions must not be in more than one sentence.

इन प्रश्नों में से प्रत्येक का उत्तर मात्र एक वाक्य में दीजिये ।

(2.1) Name any two mountain ranges located in Jammu and Kashmir. 2

जम्मू तथा काश्मीर में स्थित किन्हीं दो पर्वत श्रृंखलाओं के नाम लिखिये ।

(2.2) Name any two tributaries of Brahmaputra. 2

ब्रह्मपुत्र नदी की किन्हीं दो सहायक नदियों के नाम लिखिये ।

(2.3) Write the names of any two major sea ports situated in Andhra Pradesh and Tamil Nadu. 2

आन्ध्र प्रदेश तथा तमिलनाडु में स्थित किन्हीं दो बंदरगाहों के नाम लिखिये ।

(2.4) Write names of two international airports situated in Gujarat and Bihar. 2

गुजरात तथा बिहार में स्थित दो अंतर्राष्ट्रीय हवाई अड्डों के नाम लिखिये ।

3 Which of the following is the most serious problem that affects agriculture ? 1

(A) Soil Erosion (B) Land Salination

(C) Land Alkalization (D) Loss of nutrients

निम्न में से कौन सी सबसे गंभीर समस्या है, जो कृषि को प्रभावित करती है ?

(A) मृदा अपरदन (B) भूमि का लवणीकरण

(C) भूमि का क्षारीयकरण (D) पोषक तत्वों की कमी



4 Germany, Austria and Italy signed the Triple Alliance in which of the following years ? 1

(A) 1882 (B) 1884

(C) 1886 (D) 1888

जर्मनी, आस्ट्रिया तथा इटली ने निम्न में से किस वर्ष में ट्रिपल एलायंस पर हस्ताक्षर किये थे ?

(A) 1882 (B) 1884

(C) 1886 (D) 1888

5 Which of the following age enables a person to cast her / his vote in General elections ? 1

(A) 16 years (B) 17 years

(C) 18 years (D) 19 years

एक व्यक्ति को निम्न में से कौन सी आयु आम चुनाव में मतदान करने योग्य बनाती है ?

(A) 16 वर्ष (B) 17 वर्ष

(C) 18 वर्ष (D) 19 वर्ष

6 In which of the following year was the National Education Policy framed ? 1

(A) 1976 (B) 1986

(C) 1996 (D) 1980

राष्ट्रीय शिक्षा नीति निम्न में से किस वर्ष में बनाई गई थी ?

(A) 1976 (B) 1986

(C) 1996 (D) 1980



- 7 Explain any **two** reasons why the class of moneylenders grew during British rule in India. 2

भारत में ब्रिटिश शासन में साहूकार वर्ग के बढ़ने के कोई दो कारण स्पष्ट कीजिए ।

- 8 Mention any **two** facts that show the dependence of Indian agriculture on monsoon. 2

भारतीय कृषि की मानसून पर निर्भरता को प्रदर्शित करने वाले किन्हीं दो तथ्यों का उल्लेख कीजिए ।

- 9 How does a Municipal Council get the money to meet its expenditure ? Write any **two** ways. 2

नगर परिषद अपने व्यय के लिये धन किस प्रकार प्राप्त करती है ? कोई दो तरीके लिखिए ।

- 10 Describe any **two** negative effects of communalism. 2


साम्प्रदायिकता के दो नकारात्मक प्रभावों का वर्णन कीजिये ।

- 11 Describe the internal and external trade of Indus Valley Civilization. 4

‘सिंधु घाटी सभ्यता’ के स्थानीय तथा अन्य देशों के साथ व्यापार का वर्णन कीजिये ।

- 12 Why did the Jaintiyas and Garos rebel against the British ? Explain. 4

जयन्तिया तथा गारो लोगों ने अंग्रेजों के विरुद्ध विद्रोह क्यों किया था ? व्याख्या कीजिए ।



- 13 Explain the state of painting during Mughal period. 4
मुगल काल की चित्रकला के स्वरूप की व्याख्या कीजिये ।
- 14 Explain the consequences of Franco Prussian war of 1871. 4
1871 में हुये फ्राँको प्रसियन युद्ध के परिणामों की व्याख्या कीजिए ।
- 15 Why was Jyotirao Govindrao Phule considered an eminent reformer in India ? 4
Explain any **four** reasons.
ज्योतिराव गोविन्दराव फुले को भारत का एक प्रसिद्ध समाज सुधारक क्यों माना जाता था ?
कोई चार कारण स्पष्ट कीजिए ।
- 16 Examine the powers of the Legislature in India as given by the Act of 1935. 4
भारत सरकार अधिनियम 1935 द्वारा विधायिका को दी गयी शक्तियों की परख कीजिये ।
- 17 Explain the main features of Himachal Himalay. 4
हिमाचल हिमालय की मुख्य विशेषताओं की व्याख्या कीजिये ।
- 18 How are the wild life sanctuaries significant ? Explain any **four** reasons. 4
वन्य जीवन अभ्यारण्य किस प्रकार महत्वपूर्ण हैं ? कोई चार कारण स्पष्ट कीजिए ।
- 19 What are jet streams ? How are they significant for change of weather 4
in India ?
जेट धारायें क्या हैं ? भारत के मौसम परिवर्तन में ये किस प्रकार महत्वपूर्ण हैं ?



20 Describe the responsibility of the Executive to the Legislature in India. 4

भारत में विधायिका के प्रति कार्यपालिका के उत्तरदायित्व का वर्णन कीजिये ।

21 How 'Secularism can create a congenial atmosphere in India' ? 4

Examine the statement.

“भारत में पंथ निरपेक्षता अनुकूल वातावरण पैदा कर सकता है ।” कथन की परख कीजिए ।

22 How does the right to freedom of religion grants freedom to every religious 4

group to manage its religious affairs ? Explain.

धार्मिक स्वतंत्रता का अधिकार किस प्रकार से प्रत्येक धार्मिक समूह को अपने धार्मिक मामलों का प्रबंध करने की स्वतंत्रता देता है ? व्याख्या कीजिये ।

23 Explain the types of Directive Principles of State Policy in India. 4

भारत में राज्य के नीति निर्देशक सिद्धान्तों के प्रकारों की व्याख्या कीजिये ।

24 Explain the financial powers of the President of India. 4

भारत के राष्ट्रपति की वित्तीय शक्तियों की व्याख्या कीजिये ।

25 Explain the importance of 'Regional Political Parties' in India. 4

भारत में 'क्षेत्रीय राजनीतिक दलों' के महत्व की व्याख्या कीजिये ।



26 Examine the work and achievements of Annie Besant. 5

एनी बिसेन्ट के कार्यों तथा उपलब्धियों की परख कीजिये ।

27 Describe the importance of means of mass communication in India. 5

भारत में जनसंचार के साधनों के महत्व का वर्णन कीजिये ।

28 Examine the strategy of the Government of India employed to deal with terrorism in India as well as in the world. 5

भारत तथा विश्व में आतंकवाद से निपटने के लिये बनाई गयी भारत सरकार की नीतियों का परीक्षण कीजिये ।

29 Describe the role of elections in a democratic society. 5

लोकतांत्रिक समाज में चुनावों की भूमिका का वर्णन कीजिये ।



Roll No.

--	--	--	--	--	--	--	--	--	--	--	--

Outline Map of India (Political)

