

इस प्रश्न-पत्र में 28 प्रश्न [खण्ड 'अ'(20) + खण्ड 'ब'(4 + 4)] तथा 8 मुद्रित पृष्ठ हैं।

[illegible]

कोड नं.

A

भूगोल

(316)



0016004

(परीक्षा का दिन व दिनांक)

1.

(निरीक्षकों के हस्ताक्षर)

2.

1 Candidate must write his/her Roll Number on the first page of the Question Paper.

- 2 Please check the Question Paper to verify that the total pages and total number of questions contained in the Question Paper are the same as those printed on the top of the first page. Also check to see that the questions are in sequential order.
- 3 Making any identification mark in the Answer-Book or writing Roll Number anywhere other than the specified places will lead to disqualification of the candidate.
- 4 Write your Question Paper Code No. **55/ASS/3, Set-A** on the Answer-Book.
- 5 (a) The Question Paper is in English/Hindi medium only. However, if you wish, you can answer in any one of the languages listed below :
English, Hindi, Urdu, Punjabi, Bengali, Tamil, Malayalam, Kannada, Telugu, Marathi, Oriya, Gujarati, Konkani, Manipuri, Assamese, Nepali, Kashmiri, Sanskrit and Sindhi.
You are required to indicate the language you have chosen to answer in the box provided in the Answer-Book.
- (b) If you choose to write the answer in the language other than Hindi and English, the responsibility for any errors/mistakes in understanding the question will be yours only.

સામાન્ય અનુદેશ :

- 1 परीक्षार्थी प्रश्न-पत्र के पहले पृष्ठ पर अपना अनुक्रमांक अवश्य लिखें ।
- 2 कृपया प्रश्न-पत्र को जाँच लें कि प्रश्न-पत्र के कुल पृष्ठों तथा प्रश्नों की संख्या है जितनी प्रथम पृष्ठ के सबसे ऊपर छपी है । इस बात की जाँच भी कर लें कि प्रश्न क्रमिक रूप में हैं ।
- 3 उत्तर-पुस्तिका में पहचान-चिह्न बनाने अथवा निर्दिष्ट स्थानों के अतिरिक्त कहीं भी अनुक्रमांक लिखने पर परीक्षार्थी को अयोग्य ठहराया जायेगा ।
- 4 अपनी उत्तर-पुस्तिका पर प्रश्न-पत्र की कोड संख्या **55/ASS/3, सेट-A** लिखें ।
- 5 (क) प्रश्न-पत्र केवल हिंदी/अंग्रेजी माध्यम में है । फिर भी, यदि आप चाहें तो नीचे दी गई किसी एक भाषा में उत्तर दे सकते हैं :
- अंग्रेजी, हिंदी, उर्दू, पंजाबी, बंगला, तमिल, मलयालम, कन्नड़, तेलुगु, मराठी, उड़िया, गुजराती, कोंकणी, मणिपुरी, असमिया, नेपाली, कश्मीरी, संस्कृत और सिंधी ।
- कृपया उत्तर-पुस्तिका में दिए गए बॉक्स में लिखें कि आप किस भाषा में उत्तर लिख रहे हैं ।
- (ख) यदि आप हिंदी एवं अंग्रेजी के अतिरिक्त किसी अन्य भाषा में उत्तर लिखते हैं तो प्रश्न को समझने में होने वाली त्रुटियों / गलतियों की जिम्मेदारी केवल आपकी होगी ।



GEOGRAPHY


भूगोल
(316)


Time : 3 Hours]

[Maximum Marks : 80

समय : 3 घण्टे]

[पूर्णांक : 80



- Note :**
- (i) There are **24** questions in all. 
 - (ii) **All** questions are **compulsory**.
 - (iii) Marks for each question are indicated against it.
 - (iv) Question Nos. **1** to **4** are very short answer questions carrying **1 mark** each. Answer to these questions should not exceed **30 words** each.
 - (v) Question Nos. **5** to **9** and **21** and **22** are also very short answer questions carrying **2 marks** each. Answers to these questions should not exceed **60 words** each.
 - (vi) Question Nos. **10** to **13** and **23** and **24** are short answer questions carrying **4 marks** each. Answers to these questions should not exceed **100 words** each.
 - (vii) Question Nos. **14** to **18** are long answer questions carrying **6 marks** each. Answer of each of these questions should not exceed **140 words** each.
 - (viii) Question Nos. **19** and **20** are on filling *Outline Maps* of the *World* and *India* respectively. Each question contains 4 test-items of very short answers of **1 mark** each.
 - (ix) Use of templates or stencils for drawing outline maps in illustrating your answer is allowed.
 - (x) Answers to Question Nos. **21** to **24** of Section - B should be given from any **one** of the options.

- निर्देश :**
- (i) प्रश्नों की कुल संख्या 24 है ।
 - (ii) सभी प्रश्न अनिवार्य हैं ।
 - (iii) प्रत्येक प्रश्न के सामने उसके निर्धारित अंक दिए गए हैं । 
 - (iv) प्रश्न संख्या 1 से 4 तक अतिलघु-उत्तरीय प्रश्न हैं और प्रत्येक प्रश्न का 1 अंक है । ऐसे प्रत्येक प्रश्न का उत्तर 30 शब्दों से अधिक का नहीं होना चाहिए ।
 - (v) प्रश्न संख्या 5 से 9 तक और 21 तथा 22 भी अतिलघु-उत्तरीय प्रश्न हैं और प्रत्येक प्रश्न के 2 अंक हैं । इनमें से प्रत्येक प्रश्न का उत्तर 60 शब्दों से अधिक का नहीं होना चाहिए ।
 - (vi) प्रश्न संख्या 10 से 13 तक और 23 तथा 24 लघु-उत्तरीय प्रश्न हैं, जिनमें से प्रत्येक के 4 अंक हैं । इनमें से प्रत्येक प्रश्न का उत्तर 100 शब्दों से अधिक का नहीं होना चाहिए ।
 - (vii) प्रश्न संख्या 14 से 18 तक दीर्घ-उत्तरीय प्रश्न हैं और प्रत्येक प्रश्न के 6 अंक हैं । ऐसे प्रत्येक प्रश्न का उत्तर 140 शब्दों से अधिक का नहीं होना चाहिए ।
 - (viii) प्रश्न संख्या 19 और 20 क्रमशः संसार और भारत के रेखा मानचित्रों के भरने पर हैं । प्रत्येक प्रश्न में अतिलघु-उत्तरों की 4 परीक्षण मदें 1-1 अंक की हैं ।
 - (ix) अपने उत्तर को स्पष्ट करने के लिए रेखा मानचित्र बनाने के लिए साँचों या स्टेंसिलों के प्रयोग की अनुमति दी जाती है ।
 - (x) खण्ड-ब में प्रश्न संख्या 21 से 24 तक के उत्तर किसी एक विकल्प में से दीजिए ।




SECTION - A

खण्ड - अ

- 1 Name any **two** natural resources for which plateaus are well known. 1
किन्हीं दो प्रकार के प्राकृतिक संसाधनों के नाम लिखिए जिनकी वजह से पठार जाने जाते हैं।
- 2 What is eco-farming ? 1
जैव कृषि किसे कहते हैं ? 
- 3 Write the main factor responsible for high salinity in the Red sea. 1
लाल सागर में लवणता की मात्रा अधिक होने का मुख्य कारण लिखिए।
- 4 Why is the production and export of mica declined in India ? 1
भारत में अभ्रक का उत्पादन तथा निर्यात क्यों घट गया है ?
- 5 What is gradation ? Mention the **two** processes of gradation. 1+1=2
तल संतुलन किसको कहते हैं ? तल संतुलन की दो प्रक्रियाओं का उल्लेख कीजिए।
- 6 Name the **four** major sub divisions of ocean basin. $\frac{1}{2} \times 4 = 2$
महासागरीय बेसिन के चार उपभागों के नाम लिखिए।
- 7 Mention any **two** characteristics of retreating south west monsoon. 1×2=2
पीछे हटते दक्षिण पश्चिम मानसून की किन्हीं दो विशेषताओं का उल्लेख कीजिए।
- 8 Define 'land-man ratio'. Name any **two** countries which have much more 1+1=2
favourable land-man ratio than India.
'भूमि-मानव अनुपात' की परिभाषा लिखिए। ऐसे किन्हीं दो देशों का नाम लिखिए जहाँ
भूमि-मानव अनुपात भारत से अधिक है। 
- 9 Why is the year 1921 known as demographic divide in the population study 2
of India ?
भारत के जनसंख्या अध्ययन में वर्ष 1921 को 'जनसांख्यिकी विभाजक' क्यों माना
जाता है ?



- 10 Distinguish between systematic and regional geography by giving **two** points $2+2=4$ of distinction.

क्रमबद्ध तथा प्रादेशिक भूगोल के मध्य दो बिन्दु देकर अन्तर स्पष्ट करिए । 

- 11 Explain any **four** points about the regional distribution of precipitation in $1 \times 4 = 4$ the world.

संसार में वर्षण के प्रादेशिक वितरण को चार बिन्दुओं द्वारा व्याख्या कीजिए ।


- 12 Suggest any **four** strategies to be adopted for achieving sustainable development. $1 \times 4 = 4$
सतत पोषणीय विकास प्राप्त करने के लिए अपनाए जाने वाली कोई चार विधियाँ सुझाइए ।

- 13 Suggest any **four** measures to control landslides and to mitigate their impact. $1 \times 4 = 4$
भूस्खलन को रोकने तथा उसके दुष्प्रभावों को कम करने के कोई चार उपाय सुझाइए ।

- 14 Define water vapour. Describe any **five** points of significance of water vapour $1+5=6$ for life on the earth.

‘जलवाष्प’ की परिभाषा लिखिए । पृथ्वी पर जीवन के लिए जलवाष्प के महत्व के किन्हीं पाँच बिन्दुओं का वर्णन करिए ।

- 15 State any **six** features of National Agricultural Policy 2000. $1 \times 6 = 6$
भारतीय कृषि नीति 2000 के किन्हीं छः उद्देश्यों का उल्लेख करिए ।

- 16 Explain any **six** points of economic significance of mountains. $1 \times 6 = 6$
पर्वतों के आर्थिक महत्व के किन्हीं छः बिन्दुओं की व्याख्या करिए । 

- 17 Explain any **six** methods of water conservation. $1 \times 6 = 6$
जल संरक्षण के किन्हीं छः तरीकों की व्याख्या करिए ।

- 18 Explain any **three** social and demographic consequences of migration each. $3+3=6$
जनसंख्या प्रवास के किन्हीं तीन-तीन सामाजिक तथा जनांकिकीय परिणामों की व्याख्या करिए ।



- 19 The four geographical features are marked as (1), (2), (3) and (4) on the given political outline map of the world. Identify these features with the help of the following information and write their correct names in your answer-book : 1×4=4

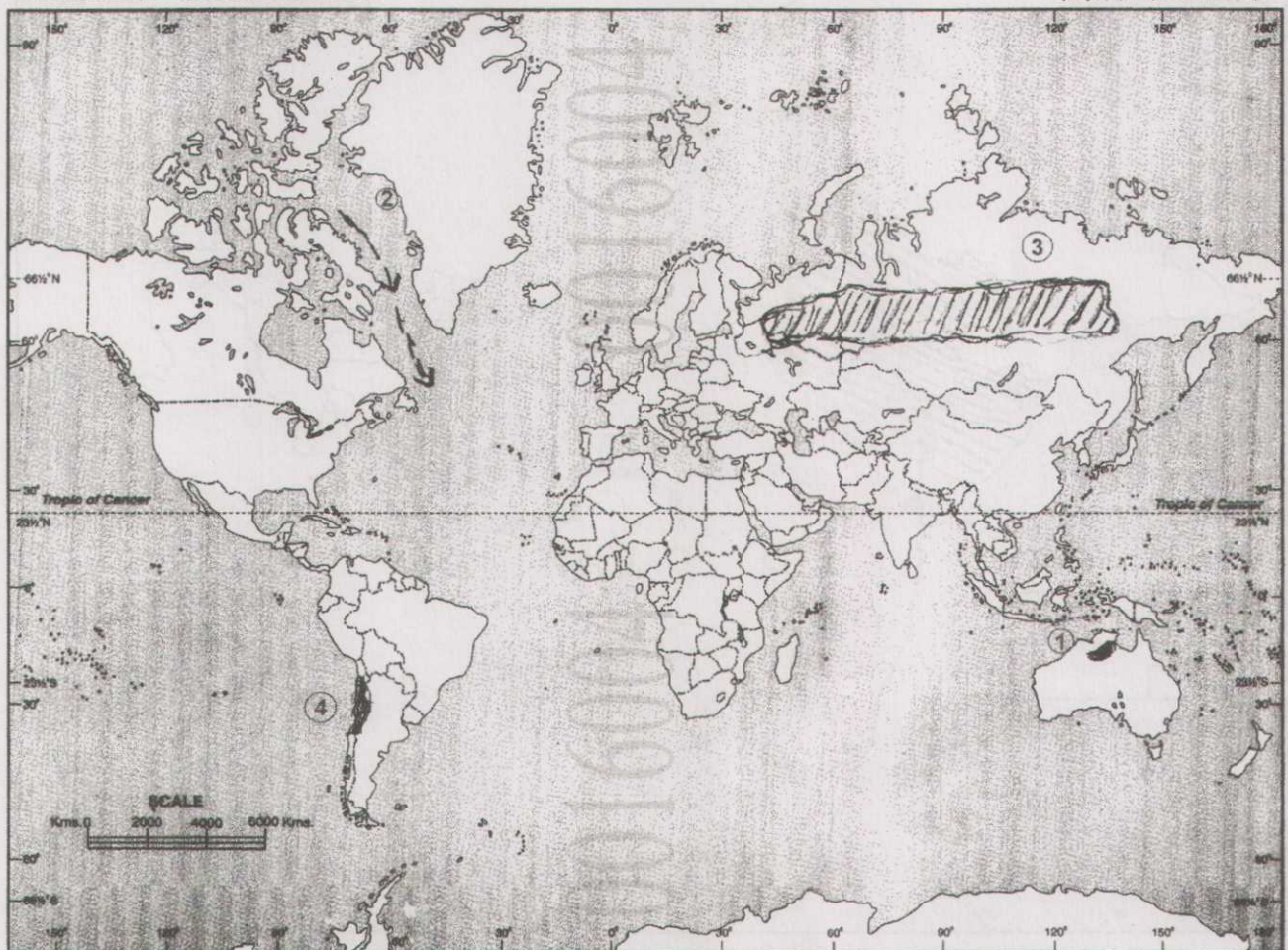
- | | |
|------------------|-------------------|
| (1) Lava plateau | (2) Ocean current |
| (3) Grasslands | (4) Desert |

दिए गए संसार के राजनीतिक रेखा मानचित्र में चार भौगोलिक लक्षणों को (1), (2), (3) और (4) द्वारा दिखाया गया है। इन लक्षणों को निम्नलिखित जानकारी की मदद से पहचानिए और उनके सही नाम अपनी उत्तर-पुस्तिका में लिखिए :

- | | |
|---------------|------------------|
| (1) लावा पठार | (2) समुद्री धारा |
| (3) घासभूमि | (4) मरुस्थल |

WORLD - POLITICAL

संसार-राजनैतिक



20 The four geographical features are marked as (1), (2), (3) and (4) on the given political outline map of India. Identify these features with the help of the following information and write their correct names in your answer-book :

1×4=4

(1) Mountain Peak

(2) River

(3) Type of forest

(4) Major sea port



दिए गए भारत के रेखा मानचित्र में चार भौगोलिक लक्षणों को (1), (2), (3) और (4) द्वारा दिखाया गया है। इन लक्षणों को नीचे दी गई जानकारी की मदद से पहचानिए और उनके सही नाम अपनी उत्तर-पुस्तिका में लिखिए :

(1) पर्वत चोटी

(2) नदी

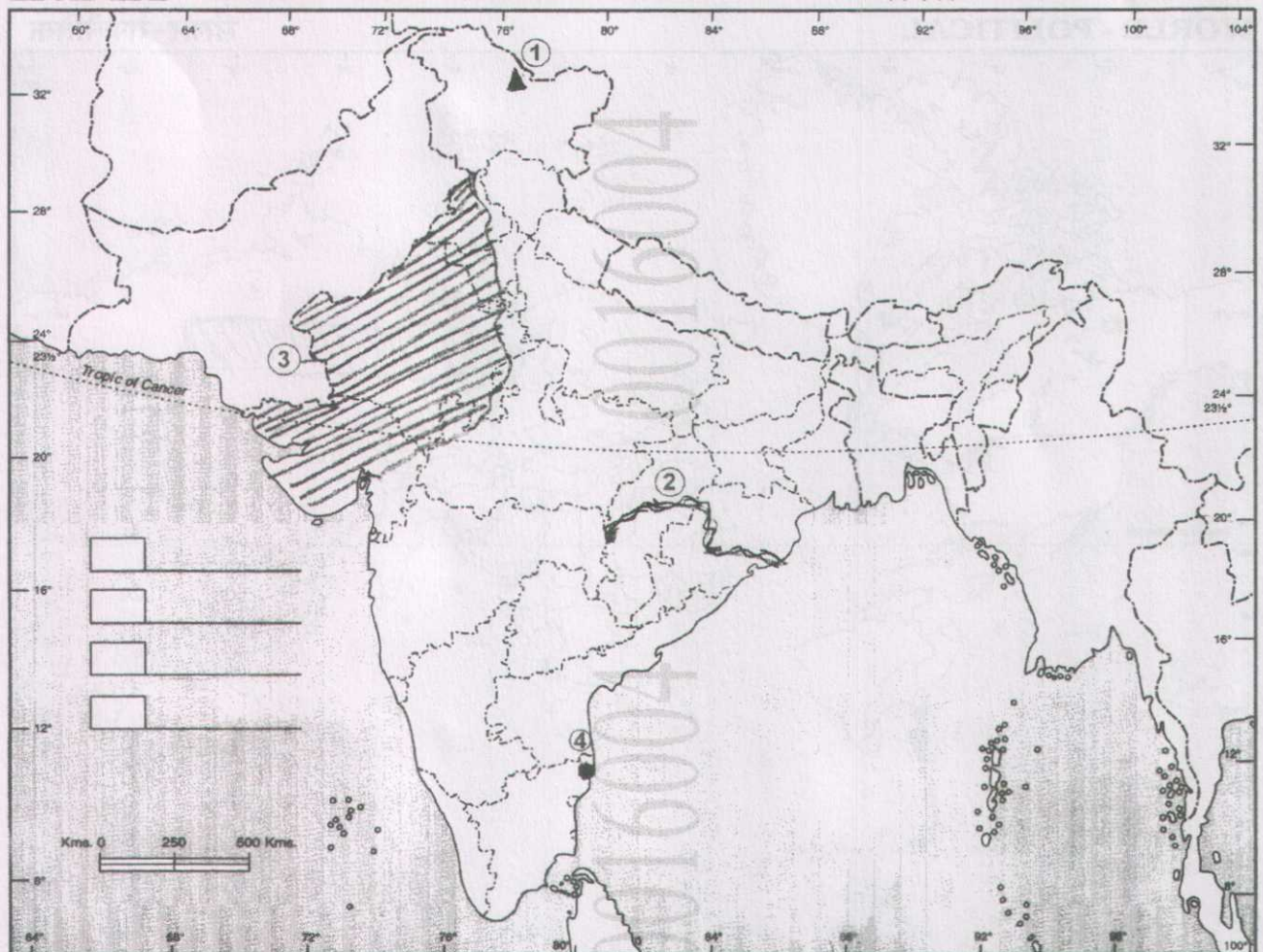
(3) वनों का प्रकार

(4) प्रमुख समुद्री पत्तन



INDIA POLITICAL AND ADJACENT COUNTRIES

भारत राजनैतिक और पड़ोसी देश



SECTION - B



खण्ड - ब

OPTION - I

विकल्प - I

(Local Area Planning)

(स्थानीय क्षेत्र नियोजन)

- 21 What is the need for maintaining a balance between resources and human requirements ? 2
संसाधनों और मानवीय आवश्यकताओं के बीच सन्तुलन बनाए रखने की आवश्यकता क्या है ? 
- 22 Differentiate between systematic sampling and random sampling. 2
क्रमबद्ध प्रतिचयन तथा यादृच्छिक प्रतिचयन में अंतर स्पष्ट कीजिए ।
- 23 State any **two** factors responsible for rapid increasing in slum population in Indian cities. Describe any **two** priorities of planning for the improvement of a slum area. 2+2=4
भारतीय शहरों में मलिन बस्ती जनसंख्या की तीव्र वृद्धि के लिए उत्तरदायी किन्हीं दो कारकों का उल्लेख करिए । मलिन बस्ती सुधार के लिए नियोजन की किन्हीं दो प्राथमिकताओं का वर्णन कीजिए । 
- 24 Explain any **four** issues that need to be considered in local area planning. 1×4=4
स्थानीय क्षेत्र नियोजन में ध्यान दिये जाने योग्य किन्हीं चार चुनौतियों की व्याख्या कीजिए ।



OPTION - II

विकल्प - II

(Geography of Tourism in India)

(भारत में पर्यटन भूगोल)

21 State any **four** hill resorts.

$\frac{1}{2} \times 4 = 2$

किन्हीं चार पहाड़ी पर्यटक स्थलों का उल्लेख कीजिए ।

22 Why are jobs created by tourism preferred to those in agricultures and industrial sector ?

2

पर्यटन द्वारा सृजित रोज़गार कृषि या औद्योगिक क्षेत्र में रोज़गार की तुलना में अधिक पसंद क्यों किए जाते हैं ?

23 What are push and pull factors ? Give two examples of each.

2+2=4

प्रेरक तथा आकर्षक कारक क्या हैं ? प्रत्येक के दो-दो उदाहरण लिखिए ।

24 Explain any **four** effects of mass tourism on environment.

1×4=4

पर्यावरण पर जनपर्यटन के किन्हीं चार प्रभावों की व्याख्या करिए ।

