

This Question Paper consists of 28 questions [Section-A (20) + Section-B (4+4)] and 11 printed pages.  
इस प्रश्न-पत्र में 28 प्रश्न [खण्ड-अ (20) + खण्ड-ब (4+4)] तथा 11 मुद्रित पृष्ठ हैं।

Roll No.

[illegible]

Code No.

Code No. **54/ASS/4**  
कोड नं. **54/ASS/4**

# GEOGRAPHY

भूगोल  
(316)

Set/सेट

A

### Day and Date of Examination

परीक्षा का दिन व दिनांक

Signature of Invigilators

1.

निरीक्षकों के हस्ताक्षर

2.

### General Instructions :

1. Candidate must write his/her Roll Number on the first page of the Question Paper.
2. Please check the Question Paper to verify that the total pages and total number of questions contained in the Question Paper are the same as those printed on the top of the first page. Also check to see that the questions are in sequential order.
3. Making any identification mark in the Answer-Book or writing Roll Number anywhere other than the specified places will lead to disqualification of the candidate.
4. Write your Question Paper Code No. **54/ASS/4-A** on the Answer-Book.
5. (a) The Question Paper is in English/Hindi medium only. However, if you wish, you can answer in any one of the languages listed below :  
English, Hindi, Urdu, Punjabi, Bengali, Tamil, Malayalam, Kannada, Telugu, Marathi, Oriya, Gujarati, Konkani, Manipuri, Assamese, Nepali, Kashmiri, Sanskrit and Sindhi.  
You are required to indicate the language you have chosen to answer in the box provided in the Answer-Book.
- (b) If you choose to write the answer in the language other than Hindi and English, the responsibility for any errors/ mistakes in understanding the question will be yours only.

**सामान्य अनूदेश :**

1. परीक्षार्थी प्रश्न-पत्र के पहले पृष्ठ पर अपना अनुक्रमांक अवश्य लिखें।
2. कृपया प्रश्न-पत्र को जाँच लें कि प्रश्न-पत्र के कुल पृष्ठों तथा प्रश्नों की उतनी ही संख्या है जितनी प्रथम पृष्ठ के सबसे ऊपर छपी है। इस बात की जाँच भी कर लें कि प्रश्न क्रमिक रूप में हैं।
3. उत्तर-पुस्तिका में पहचान-चिह्न बनाने अथवा निर्दिष्ट स्थानों के अतिरिक्त कहीं भी अनुक्रमांक लिखने पर परीक्षार्थी को अयोग्य ठहराया जायेगा।
4. अपनी उत्तर-पुस्तिका पर प्रश्न-पत्र की कोड संख्या **54/ASS/4-A** लिखें।
5. (क) प्रश्न-पत्र केवल हिंदी/अंग्रेजी में है। फिर भी, यदि आप चाहें तो नीचे दी गई किसी एक भाषा में उत्तर दे सकते हैं :  
अंग्रेजी, हिंदी, उर्दू, पंजाबी, बँगला, तमिल, मलयालम, कन्नड़, तेलुगू, मराठी, उड़िया, गुजराती, कोंकणी, मणिपुरी, असमिया, नेपाली, कश्मीरी, संस्कृत और सिंधी।  
कृपया उत्तर-पुस्तिका में दिए गए बॉक्स में लिखें कि आप किस भाषा में उत्तर लिख रहे हैं।  
(ख) यदि आप हिंदी एवं अंग्रेजी के अतिरिक्त किसी अन्य भाषा में उत्तर लिखते हैं तो प्रश्न को समझने में होने वाली त्रुटियों/गलतियों की जिम्मेदारी केवल आपकी होगी।





# GEOGRAPHY

भूगोल

(316)

Time : 3 Hours ]

[ Maximum Marks : 80

समय : 3 घण्टे ]

[ पूर्णांक : 80

- 
- Note :**
- (i) There are **24** questions in all.
  - (ii) **All** questions are compulsory.
  - (iii) Marks for each question are indicated against it.
  - (iv) Question Nos. **1** and **2** are on filling **Outline Maps of the World and India** respectively. Each question contains **4** test items of very short answers of **1** mark each.
  - (v) Question Nos. **3** to **6** are very short answer questions carrying **1** mark each. Answers to these questions should not exceed **30** words each.
  - (vi) Question Nos. **7** to **11** and **21** & **22** are also very short answer questions carrying **2** marks each. Answers to these questions should not exceed **60** words each.
  - (vii) Question Nos. **12** to **15** and **23** & **24** are short answer questions carrying **4** marks each. Answers to these questions should not exceed **100** words each.
  - (viii) Question Nos. **16** to **20** are long answer questions carrying **6** marks each. Answer of each of these questions should not exceed **140** words each.
  - (ix) Use of templates or stencils for drawing outline maps in illustrating your answer is allowed.
  - (x) Answers to Question Nos. **21** to **24** of Section-B should be given from **any one** of the Options.





- निर्देश :**
- प्रश्नों की कुल संख्या 24 है।
  - सभी प्रश्न अनिवार्य हैं।
  - प्रत्येक प्रश्न के सामने उसके निर्धारित अंक दिए गए हैं।
  - प्रश्न संख्या 1 और 2 क्रमशः संसार और भारत के रेखामानचित्रों के भरने पर हैं। प्रत्येक प्रश्न में अति लघु-उत्तरों की 4 परीक्षण मदें 1-1 अंक की हैं।
  - प्रश्न संख्या 3 से 6 तक अति लघु-उत्तरीय प्रश्न हैं और प्रत्येक प्रश्न का 1 अंक है। ऐसे प्रत्येक प्रश्न का उत्तर 30 शब्दों से अधिक का नहीं होना चाहिए।
  - प्रश्न संख्या 7 से 11 तक और 21 तथा 22 भी अति लघु-उत्तरीय प्रश्न हैं और प्रत्येक प्रश्न के 2 अंक हैं। इनमें से प्रत्येक प्रश्न का उत्तर 60 शब्दों से अधिक का नहीं होना चाहिए।
  - प्रश्न संख्या 12 से 15 तक और 23 तथा 24 लघु-उत्तरीय प्रश्न हैं, जिनमें से प्रत्येक के 4 अंक हैं। इनमें से प्रत्येक प्रश्न का उत्तर 100 शब्दों से अधिक का नहीं होना चाहिए।
  - प्रश्न संख्या 16 से 20 तक दीर्घ-उत्तरीय प्रश्न हैं और प्रत्येक प्रश्न के 6 अंक हैं। ऐसे प्रत्येक प्रश्न का उत्तर 140 शब्दों से अधिक का नहीं होना चाहिए।
  - अपने उत्तर को स्पष्ट करने के लिए रेखामानचित्र बनाने के लिए साँचों या स्टेंसिलों के प्रयोग की अनुमति दी जाती है।
  - खण्ड-ब में प्रश्न संख्या 21 से 24 तक के उत्तर किसी एक विकल्प में से दीजिए।

## SECTION - A

### खण्ड - अ

1. Four geographical features are shown as (A), (B), (C) and (D) on the given political outline map of the World. Identify these features with the help of the following information and write their correct names in your answer-book.

4x1=4

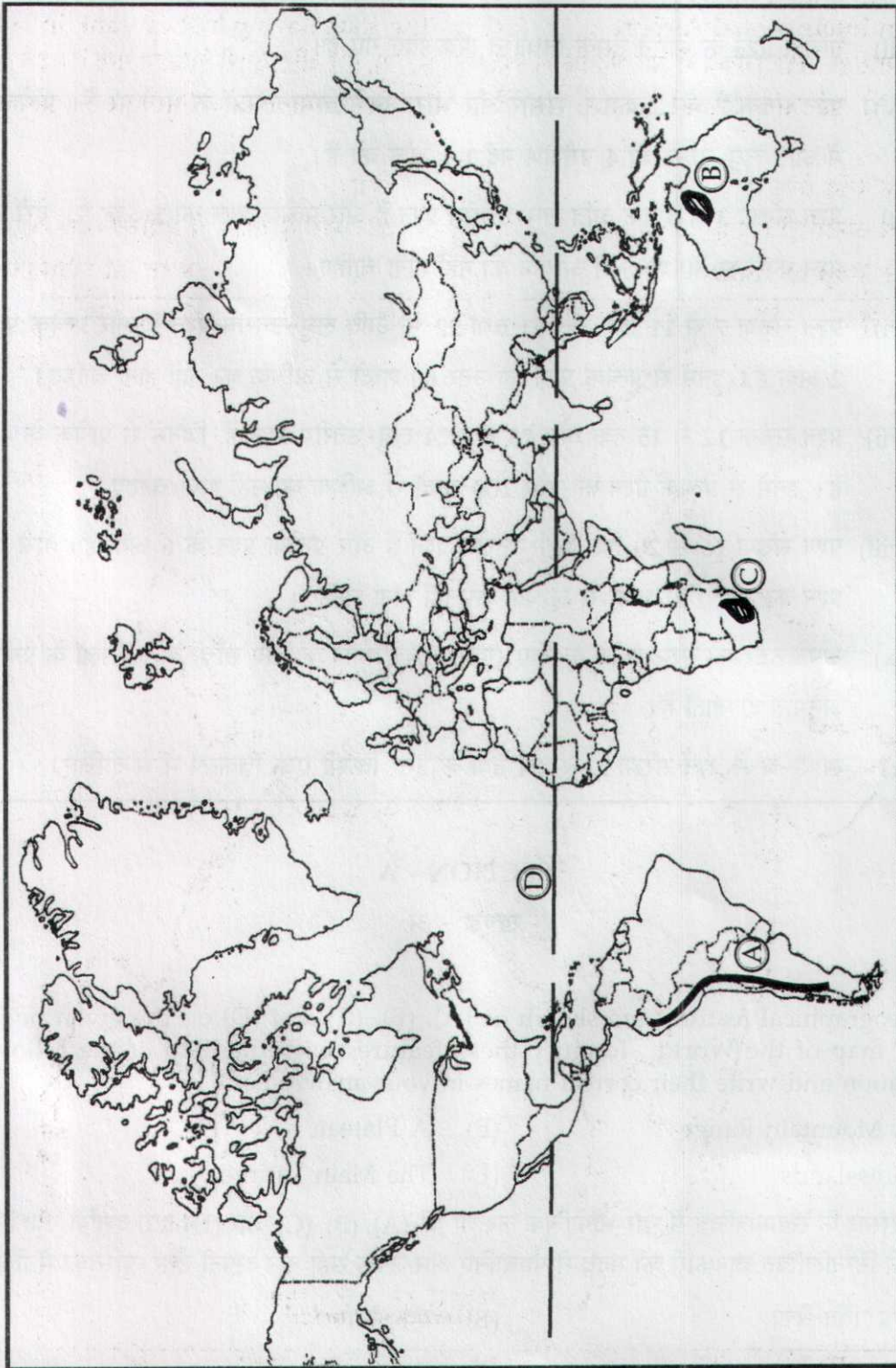
- |                      |                       |
|----------------------|-----------------------|
| (A) A Mountain Range | (B) A Plateau         |
| (C) Grasslands       | (D) The Main Latitude |

दिए गए संसार के रेखामानचित्र में चार भौगोलिक लक्षणों को (A), (B), (C) और (D) द्वारा दर्शाया गया है। इन लक्षणों को निम्नलिखित जानकारी की मदद से पहचानिए और उनके सही नाम अपनी उत्तर-पुस्तिका में लिखिए।

- |                     |                   |
|---------------------|-------------------|
| (A) एक पर्वत श्रेणी | (B) एक पठार       |
| (C) घास भूमियाँ     | (D) मुख्य अक्षांश |









2. Four geographical features are shown as (1), (2), (3) and (4) on the given political outline map of India. Identify these features with the help of the following information and write their correct names in your answer-book.

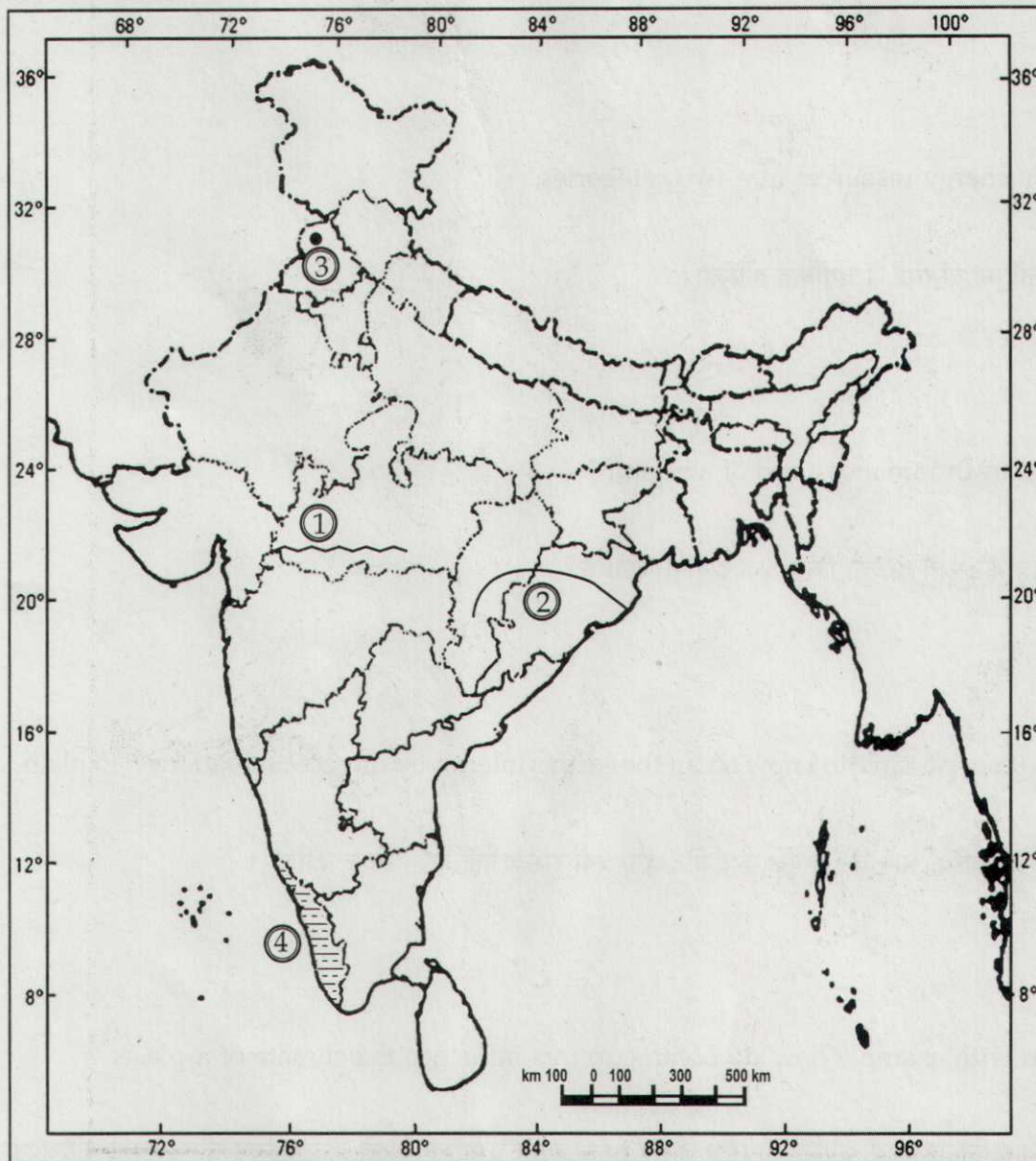
4x1=4

(A) A Mountain Range (B) A River  
(C) An International Airport (D) The state having highest rank in H.D.I.  
दिए गए भारत के रेखामानचित्र में चार भौतिक लक्षणों को (1), (2), (3) और (4) से दिखाया गया है। इन लक्षणों को नीचे दी गई जानकारी की मदद से पहचानिए और उनके सही नाम अपनी उत्तर - पुस्तिका में लिखिए :

- (A) एक पर्वत श्रेणी (B) एक नदी  
(C) एक अन्तर्राष्ट्रीय वायु पत्तन (D) मानव विकास सूचकांक में सर्वोच्च स्थान वाला राज्य

Political Map of India

भारत का रेखामानचित्र



3. Why are spring tides occur on a new moon or a full moon day ? 1  
दीर्घ ज्वार अमावस्या अथवा पूर्णिमा के दिन क्यों आते हैं ?
4. Why are currents produced by changes in the salinity of ocean waters ? 1  
महासागरीय जल की लवणता में परिवर्तन से धाराएं क्यों उत्पन्न होती हैं ?
5. Classify energy resources into two categories.  $\frac{1}{2} + \frac{1}{2} = 1$   
ऊर्जा स्रोतों को दो वर्गों में वर्गीकृत कीजिए।
6. How is death rate measured of a region ? 1  
किसी क्षेत्र की मृत्यु दर को किस प्रकार मापा जाता है ?
7. Why is it not possible to know about the earth's interior by direct observations ? Explain. 2  
पृथ्वी के आन्तरिक भाग को प्रत्यक्ष रूप से देखना क्यों संभव नहीं है ? स्पष्ट कीजिए।
8. Explain with example how do ocean currents influence the climate of a place. 2  
किसी स्थान की जलवायु को महासागरीय धाराएं किस प्रकार प्रभावित करती हैं, उदाहरण सहित स्पष्ट कीजिए।





9. How are Andaman and Nicobar islands differ from Lakshadweep islands ?

2

अंडमान और निकोबार द्वीप समूह लक्षद्वीप समूहों से किस प्रकार भिन्न हैं ?

10. Explain any two main features of the most popular source of irrigation in India.

2×1=2

भारत में सिंचाई के सबसे अधिक लोकप्रिय साधन की किन्हीं दो विशेषताओं की व्याख्या कीजिए।

11. Differentiate between 'favourable foreign trade' and 'unfavourable foreign trade'.

2

अनुकूल विदेशी व्यापार और प्रतिकूल विदेशी व्यापार में अन्तर स्पष्ट कीजिए।

12. Divide systematic geography into four main branches. Write the main features of each.

2+2=4

क्रमबद्ध भूगोल को चार मुख्य शाखाओं में विभाजित कीजिए। प्रत्येक शाखा की मुख्य विशेषताएँ लिखिए।

13. Explain simple 'Food Chain' with examples.

4

साधारण 'खाद्य श्रृंखला' को उदाहरणों सहित स्पष्ट कीजिए।

14. "There is a close relationship between the pressure gradient and the wind speed". Justify.

4

"वायु दाब की प्रवणता और पवन की गति में निकट का संबंध है।" न्यायोचित ठहराइए।



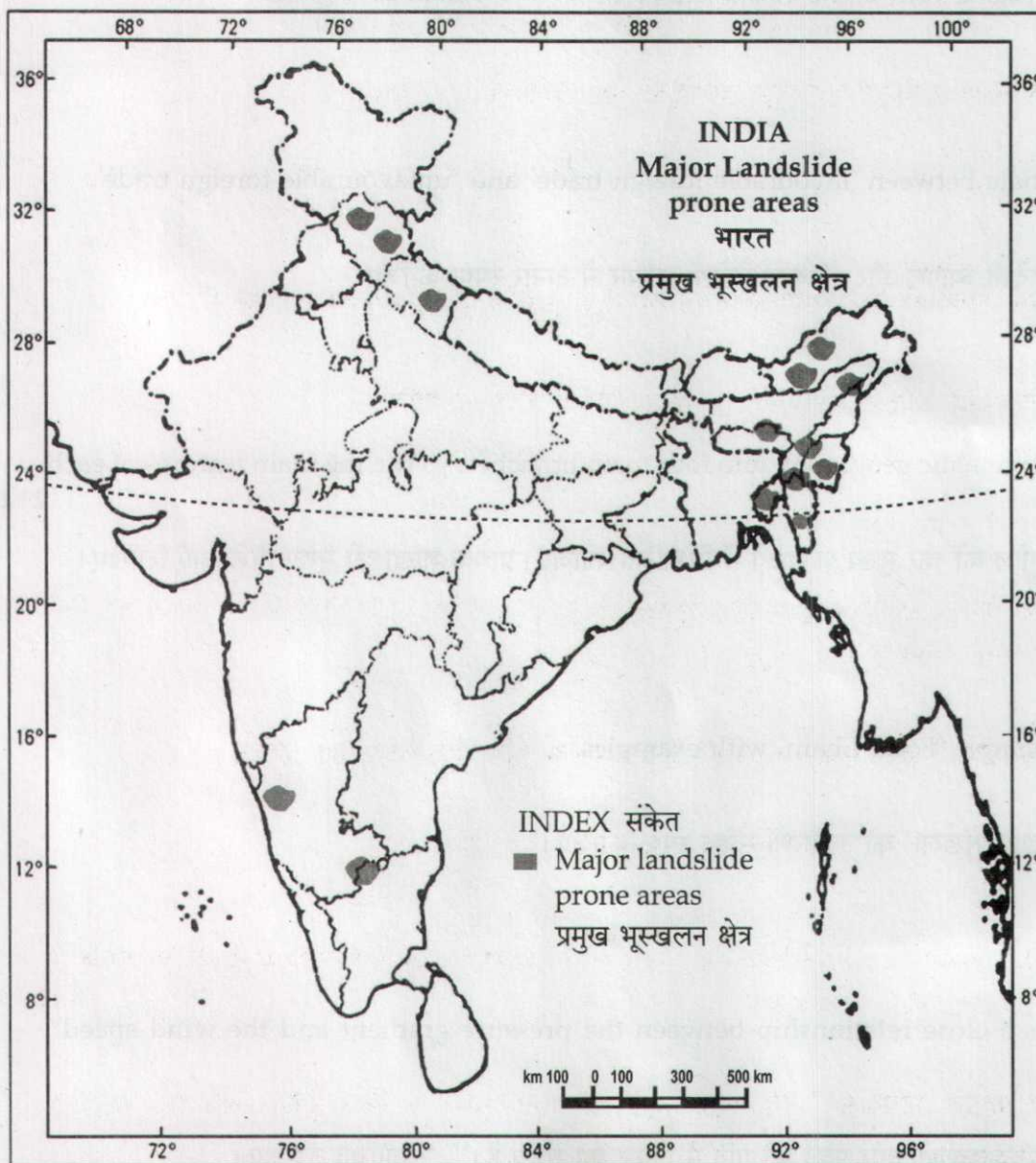
15. Study the map given below, showing landslide prone areas of India carefully and answer the questions that follow :

1+3=4

- (15.1) Which are the two major high risk landslide prone areas in India ?  
(15.2) Explain any three measures to control landslides and to mitigate their impact.

नीचे दिए गए मानचित्र का सावधानीपूर्वक अध्ययन कीजिए जिसमें भारत के भूस्खलन प्रवण क्षेत्रों को दिखाया गया है और निम्नलिखित प्रश्नों के उत्तर दीजिए :

- (15.1) भारत में भूस्खलन से अधिक त्रस्त दो प्रमुख भूस्खलन प्रवण क्षेत्र कौन से हैं ?  
(15.2) भूस्खलन रोकने तथा उनके दुष्प्रभावों को कम करने के किन्हीं तीन उपायों की व्याख्या कीजिए।





16. Which are the two categories of horizontal movement of the earth's crust ? Describe the main features of each category. 2+4=6

भूपर्पटी की क्षैतिजीय गति के दो वर्ग कौन से हैं ? प्रत्येक वर्ग की प्रमुख विशेषताओं का वर्णन कीजिए।

17. Describe any six major causes of land degradation in India. 6x1=6

भारत में भूमि क्षरण के किन्हीं छः प्रमुख कारणों का वर्णन कीजिए।

18. Describe the spatial distribution of mineral and energy resources in India. 6


भारत में खनिज और ऊर्जा के संसाधनों के स्थानिक वितरण का वर्णन कीजिए।

19. "The distribution of precipitation is not uniform all over the world". Support the statement with examples. 6x1=6

“संसार में वर्षण का वितरण समान नहीं है।” इस कथन की पुष्टि उदाहरणों सहित कीजिए।

20. How are 'Compact rural settlements' different from 'Semi compact rural settlements' ? Explain with suitable examples. 4x1½=6

‘सघन/संहत ग्रामीण अधिवास’ ‘अर्द्धसघन/संहत ग्रामीण अधिवासों’ से किस प्रकार भिन्न है ? उपयुक्त उदाहरणों द्वारा स्पष्ट कीजिए।





SECTION - B

खण्ड - ब

OPTION - I

विकल्प - I

(Local Area Planning)

(स्थानीय क्षेत्र नियोजन)

21. Mention any four planning levels. 4x1/2=2  
नियोजन के किन्हीं चार स्तरों का उल्लेख कीजिए।
22. How are ecology and environment closely related with each other ? Explain. 2  
पारिस्थितिकी और पर्यावरण एक दूसरे के साथ किस प्रकार घनिष्ठ रूप से सम्बन्धित हैं ? स्पष्ट कीजिए।
23. Describe any two aspects of planning proposals related to 'Tribal Area Development'. 2x2=4  
'जनजाति क्षेत्र विकास' से सम्बन्धित नियोजन प्रस्तावों के किन्हीं दो पहलुओं का वर्णन कीजिए।
24. Explain any four precautions need to be observed to get correct information from the field. 4x1=4  
क्षेत्र से सही जानकारी प्राप्त करने के लिए ध्यान में रखने योग्य किन्हीं चार सावधानियों को स्पष्ट कीजिए।

OPTION - II

विकल्प - II

(Geography of Tourism in India)

(भारत में पर्यटन भूगोल)

21. Mention any two features of 'Kanha National Park'. 2x1=2  
'कान्हा राष्ट्रीय उद्यान' की किन्हीं दो विशेषताओं का उल्लेख कीजिए।
22. How are coastal waters of mainland and islands of India source of tourist attraction ? Explain with examples. 2x1=2  
भारत की मुख्य भूमि और द्वीपों का तटीय जल किस प्रकार पर्यटकों के आकर्षण के स्रोत हैं ? उदाहरणों सहित स्पष्ट कीजिए।





23. Describe the importance of 'Season Specific tourism' with examples.

4

'ऋतु विशेष पर्यटन' के महत्व का उदाहरण देकर, वर्णन कीजिए।

24. Explain with examples, the impact of 'mass tourism' on local economy.

4x1=4

'जन पर्यटन' का स्थानीय अर्थव्यवस्था पर पड़े प्रभाव को उदाहरणों सहित स्पष्ट कीजिए।

- o O o -

